

27-24

ТЕСТОВЫЙ ТУР  
7 КЛАСС

525.

1. Наиболее крупно географические объекты изображены на карте, имеющей масштаб:  
А. 1:85 000 000    Б. 1:60 000 000    В. 1:1 000 000;    Д. 1:10 000
2. Расположите реки Европы в порядке возрастания их длины:  
А. Днепр    Б. Рейн    В. Сев. Двина    Г. Урал    1-В, 2-Б, 3-Д, 4-А. 0
3. Какие из перечисленных островов в Мировом океане расположены ближе всего к южному полюсу:  
А. Юж. Сандвичевы    Б. Баллени    В. Юж. Шетландские    Г. Юж. Оркнейские
4. На территории, какой страны расположен активный действующий вулкан Котопахи:  
А. Перу    Б. Чили    В. Эквадор    Г. Боливия    40
5. Установите соответствие между горной системой и ее вершиной:  
1. Капские горы    А. гора Тубкаль  
2. Атлас    Б. гора Тхабана-Нтленьяна  
3. Драконовы горы    В. гора Рас-Дашен  
4. Эфиопское нагорье    Г. гора Компассберг  
1-2, 2-3, 3-2, 4-1.
6. Расположите страны в порядке увеличения длины их береговой линии:  
2 А. Аргентина    3 Б. Испания    4 В. Филиппины    1 Г. КНР    0
7. Какой объект расположен вне экваториального пояса освещенности?  
А. Дельта реки Нигер    Б. Киншаса    В. Сингапур    Г. о. Калимантан    0
8. Как называется теплый и сухой порывистый ветер, дующий с гор ....    0
9. Правильны ли утверждения? (да/нет)  
А. Тонго – второй по глубине желоб в Тихом океане да +  
Б. Гора Герлаховский Штит – высшая точка Карпат нет -  
В. О. Колгуев находится в Карском море нет +  
Г. Серо-бурые почвы формируются в пустынях нет -    0,5
10. Определите географический объект по его координатам ...  
27° 17' ю.ш. и 109 °21' з.д. Остров Пасхи.    25
11. Расположите в геохронологической последовательности периоды по абсолютному возрасту от самого раннего к более молодому:  
А. Пермский    Б. Неогеновый    В. Триасовый    Г. Ордовикский    0
12. Расположите моря Тихого океана по мере увеличения в них наибольшей глубины:  
А. Южно-Китайское    Б. Филиппинское    В. Коралловое    Г. Желтое    А-1, Б-3, В-4, Г-2    0
13. Какое из перечисленных озер не относится к Великим озерам Северной Америки:  
А. Гурон    Б. Эри    В. Виннипег    Г. Мичиган    1
14. Расположите моря Мирового океана по мере увеличения в них вод солёности:  
1 А. Японское    4 Б. Средиземное    3 В. Лаптевых    1 Г. Белое
15. Основным районом исследований Дэвида Левингстона был(а):    0

- А) остров Новая Гвинея      Б) Центральная Азия  
 В) Экваториальная Африка    Г) бассейн реки Амазонки

16. Пассаты в Южном полушарии дуют:

- А) от экватора к полюсам      + Б) от тропических широт к экватору  
 В) от полюсов к тропическим широтам    Г) от экватора к северному полюсу

17. Выберите правильное утверждение:

- А) литосфера и земная кора – синонимы      Б) литосфера – часть земной коры  
 В) земная кора – часть литосферы  
 Г) литосфера и земная кора разделены между собой промежуточным слоем

18. Зимой в умеренных широтах не наблюдается выпадение града, потому что:

- А) не образуются достаточно мощные облака  
 Б) температура облака не всегда достаточно низка  
 + В) не образуются мощные восходящие потоки воздуха  
 Г) не встречаются облака, в нижней части которых температура выше 0 °С, а в верхней ниже

19. Какое из следующих утверждений является верным?

- А) нижняя, наиболее плотная часть атмосферы высотой до 18 км называется стратосферой  
 Б) в составе атмосферы преобладает кислород  
 В) относительная влажность воздуха увеличивается при его нагревании

+ Г) в экваториальных широтах преобладает пониженное атмосферное давление

20. Определите, когда по московскому времени совершит посадку в Москве (2-й часовой пояс) самолет, вылетевший из Новосибирска (5-й часовой пояс) в 11 часов по местному времени и находившийся в полете 5 часов:

- А) 16 часов      Б) 14 часов      В) 13 часов      Г) 17 часов

### АНАЛИТИЧЕСКИЙ ТУР 7 КЛАСС

1. Используя контурную карту, определите географический объект по его описанию и определите его местоположение. Заполните таблицу.



Заполните таблицу

Объект	Номер на карте	Описание
Полуостров Малакка 1	2 1	Южная оконечность полуострова Индокитай, омываемая на западе

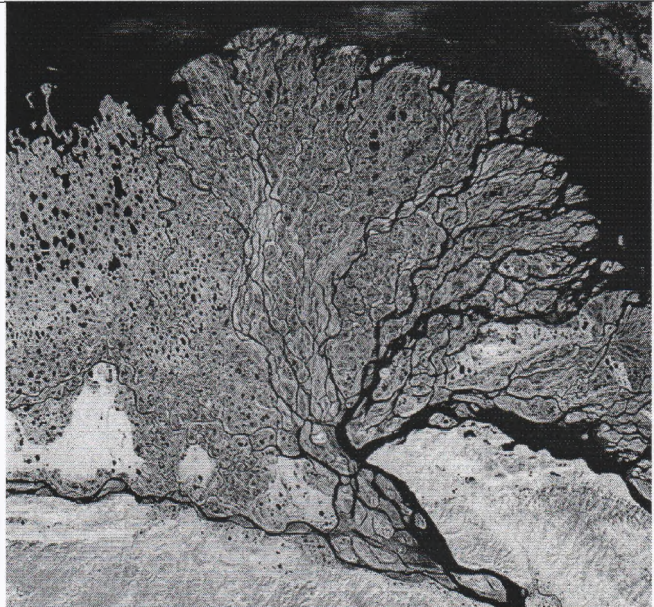

105






		Андаманским морем, на востоке Южно-Китайским морем, а на юге одноименным проливом
Саламандрово море 1	15 1	Пятое по площади пресноводное озеро Канады, и 12 по площади пресноводное озеро мира
		Межостровное море расположенная между одноименными островами, Новой Британие и Новой Гвинеей
Остров Зеленого мыса 1	1 1	Архипелаг из десяти крупных и 8 мелких островов, расположенный в центральной части Атлантического океана
		Пролив между материком Евразия и о. Сахалин
Жапонго 1	3 1	Крупная река, берущая начало, в Скалистых горах образуя обширную дельту
Горы Бунрана 1	9 1	Самая северная горная система в России

## 2. Реки Мира.

Определите реку по её краткому описанию

Река	Космоснимок	Описание
Лена		1. Дельта этой реки считается одной из самых больших дельт в мире. Её общая площадь составляет 45 тыс. км <sup>2</sup> , а свое начало она берет в 150 км от места впадения. В дельте реки находится заповедник и крупнейший в России биосферный резерват. Здесь находят пристанище много водоплавающих птиц, гусей, лебедей, уток, гагар и чаек.
Меконг		2. Дельта этой реки образовалась на месте морской бухты, которая образовалась за счет речных наносов. По форме она напоминает форму цветка лотоса, а площадь составляет 24 тыс. км <sup>2</sup> . В дельте этой реки находится крупнейший город с численностью населения более 4 млн. человек.



Сам-Хуан в Колорадо		<p>3. Небольшая по протяженности река всего 640 км. в долин реки находится национальный парк Gooseneck, что в переводе означает «утиное горлышко». Такое название парк получил из-за сумасшедших извилин, которые делает протекающая тут река. Река является весьма популярным местом для рафтинга.</p>
Миссисипи		<p>4. Устье этой реки состоит из пяти рукавов. В дельте реки образуется заливные луга, которые отличаются большим биоразнообразием, что способствует здесь развитию рыбного промысла.</p>
Рио Магро		<p>5. Одна из самых из самых маневренных рек в Южной Америке, которая оставляет после себя следы практически по всей долине. Отдельные старицы (старые рукава рек) до сих пор наполнены водой.</p>

3. Заповедники России. Определите Заповедник России по его краткому описанию

Объект (заповедник)	Что? (сохранение флоры и фауны)	Где? (Местонахождение, Субъект РФ)	Когда? (краткое описание)
98 Баргузинский	Соболь	Республика Бурятия.	1. Самый первый заповедник в России. 11 января 1917 заповедник был открыт для сохранения и восстановления численности одного из наиболее ценных пушных животных.



		2. Самый северный заповедник в России. Дата создания 11 мая 1993 года. Суровый климат Северного Ледовитого океана. Зона тундр и арктических пустынь.
		3. Учрежден 12 мая 1924. Заповедник включен в список всемирного наследия ЮНЕСКО в 1999 году: 3000 видов растений, 248 видов птиц и 89 млекопитающих, встречаются рыси в хвойных лесах, 700 видов грибов, характерных для субтропиков.

4. Условные знаки плана и карты. Подпишите условные знаки. Заполните таблицу.

№	Условный знак	Обозначение
1.		
2.		
3.		
4.		
5.		
6.		
7.		
8.		
9.		
10.		
11.		Родник 15.
12.		Кустарник 15
13.		Церковь 15
14.		
15.		

5. Решение задач по топографической карте.

1. Определите, через сколько метров проведены основные горизонтали.
2. Определите склонение магнитной стрелки и сближение меридианов.
3. Определите высоту озера Черное над уровнем моря?
4. Определите азимут на Ключ Белый, если вы находитесь на г. Малиновская
5. Определите разницу высот высокого и самого низкого объекта на карте
6. Определите глубину болота? *0,7 м.* *25*
7. Объясните, значение цифр расположенных рядом со знаком породы деревьев?
8. Определите в каком направлении течет Река Голубая: впадает или вытекает из озера Черного? Обоснуйте свой ответ.
9. Из каких материалов сделаны мосты на данной карте?
10. Наблюдался ли пожар в лесу Кормушки?

ЧАСТЬ ЛИСТА ТОПОГРАФИЧЕСКОЙ КАРТЫ

У-34-37-В-В (СНОВ)

