

1 тур 70 + 2 тур 82 = 152 б

705



ВСЕРОССИЙСКАЯ ОЛИМПИАДА ШКОЛЬНИКОВ ПООБЖ. 2018-2019 уч. г.  
МУНИЦИПАЛЬНЫЙ ЭТАП. 10-11 КЛАССЫ

1010

Уважаемый участник!

При выполнении заданий Вам предстоит выполнить определённую работу, которую лучше организовать следующим образом:

- внимательно прочитайте задание;
- если Вы отвечаете на теоретический вопрос или решаете ситуационную задачу, обдумайте и сформулируйте конкретный ответ (ответ должен быть кратким, и его содержание следует вписать в отведённое поле; пишите чётко и разборчиво);
- при ответе на тестовые задания определите верный ответ и обведите кружком букву (буквы), соответствующую(-ие) выбранному Вами ответу.

За каждый правильный ответ Вы можете получить определённое членами жюри количество баллов, не выше указанной максимальной оценки.

Сумма набранных баллов за все решённые вопросы в двух форматах - итог Вашей работы. Максимальное количество баллов - 100.

Задания считаются выполненными, если Вы вовремя сдали их членам жюри.

*Желаем успеха!*

**Тестовые задания**

*Определите один правильный ответ*

*За правильный ответ начисляется 2 балла.*

1. В какой очередности следует надевать кислородную маску при разгерметизации кабины самолёта?  
2 а) сначала взрослому, потом ребёнку б) сначала ребёнку, потом взрослому  
в) одновременно и взрослому, и ребёнку г) очередность не имеет значения
2. При входе в кабину лифта животное необходимо держать за  
2 а) поводок б) ошейник в) антабку г) люверс
3. Какому режиму деятельности РСЧС соответствует мероприятие «Изучение состояния окружающей среды и прогнозирование чрезвычайных ситуаций»?  
2 а) постоянной готовности б) повышенной готовности  
в) повседневной деятельности г) усиленной готовности
4. К полномочиям Правительства Российской Федерации относят  
2 а) утверждение структуры, состава спасательных воинских формирований МЧС  
б) руководство организацией и ведением гражданской обороны  
в) утверждение Плана гражданской обороны и защиты населения Российской Федерации  
г) организацию подготовки населения в области гражданской обороны
5. При наличии требующей подтверждения информации о реальной возможности совершения террористического акта устанавливается  
2 а) повышенный уровень опасности б) критический уровень опасности  
в) высокий уровень опасности г) постоянный уровень опасности
6. Какие лекарственные препараты позволяют сформировать у человека активный иммунитет против определённого инфекционного заболевания (или группы болезней)?  
0 а) витамины б) вакцины в) адаптогены г) сыворотки
7. С выполнения какого мероприятия начинается оказание первой помощи?  
2 а) вызова скорой медицинской помощи  
б) оценка обстановки и обеспечения безопасных условий для оказания первой помощи  
в) устранения жизнеугрожающего состояния  
г) придания пострадавшему оптимального положения тела
8. 11 сентября - День воинской славы России. Какое событие отмечается в этот день?  
2 а) день победы русской эскадры под командованием Ф.Ф. Ушакова над турецкой эскадрой у мыса Гендра  
б) день победы русских полков во главе с великим князем Дмитрием Донским над монголо-татарскими войсками в Куликовской битве  
в) день Бородинского сражения русской армии под командованием М.И. Кутузова с

французской армией

г) день разгрома советскими войсками немецко-фашистских войск в Курской битве

9. В послеобеденное время военнослужащим предоставляется

2 а) 40 минут отдыха (сна) б) 1,5 часа отдыха (сна) в) 1 час отдыха (сна) г) 50 минут отдыха (сна)

10. Верны ли утверждения о фланге строя?

2 А. Фланг - правая (левая) оконечность строя.

Б. При поворотах строя названия флангов не изменяются.

а) верно только А б) верно только Б в) верны оба утверждения г) оба утверждения неверны

*Определите все правильные ответы.*

*За каждый правильный ответ начисляется 2 балла.*

11. Источником серьёзной опасности может стать появление собаки в общественных местах. Владелец имеет право оставить свою некрупную собаку привязанной возле магазина или другого учреждения

4 а) на ограниченное время, на коротком поводке б) на неограниченное время, на коротком поводке в) в наморднике г) без намордника д) на неограниченное время в наморднике

12. Основными факторами, характеризующими опасность взрыва, являются:

4 а) температура взрыва б) части разрушившихся конструкций  
в) фугасные свойства взрывоопасной среды г) повышенная температура окружающей среды  
д) осколки разрушившихся аппаратов

13. Определите целесообразные действия при получении сигнала о приближении урагана.

4 а) закрыть окна и двери с наветренной стороны здания, а с подветренной открыть  
б) закрыть окна и двери со всех сторон здания в) плотно сложить вещи на балконах  
г) разместиться во внутренней комнате здания д) убрать вещи с балконов

14. Выделите основные принципы защиты населения и территорий от чрезвычайных ситуаций.

4 а) организация последовательного выполнения мероприятий по защите населения и территорий от чрезвычайных ситуаций  
б) максимальное использование аварийно-спасательных формирований МЧС России  
в) нормированное применение сил и средств защиты населения и территорий от чрезвычайных ситуаций  
г) заблаговременное проведение необходимых мероприятий по предупреждению чрезвычайных ситуаций  
д) максимально возможное использование имеющихся сил и средств, включая силы и средства гражданской обороны.

15. Что из перечисленного относится к экстремистской деятельности ?

2 а) подстрекательство к террористическому акту  
б) публичное оправдание терроризма и иная террористическая деятельность  
в) распространение материалов, призывающих к осуществлению террористической деятельности  
г) воспрепятствование осуществлению гражданами их избирательных прав соединённые с насилием либо угрозой его применения  
д) пропаганда идей терроризма

16. Какие нарушения в организме человека возникают при недостатке витамина Д?

4 а) рахит у детей раннего возраста б) нарушения со стороны желудочно-кишечного тракта у детей раннего возраста  
в) увеличение массы тела у взрослых и детей  
г) остеопороз у взрослых д) нарушение со стороны кожи у взрослых

17. Какие действия необходимо выполнить для оказания первой помощи пострадавшему с придавленной конечностью до момента её освобождения (если есть доступ к периферической части прижатой конечности)?

4 а) наложить жгут выше места прижатия конечности б) выполнить тугое бинтование доступной части конечности  
в) приложить тепло, дать питьё г) приложить холод, дать обильное питьё  
д) иммобилизовать конечность

18. Укажите военные округа, выделенные в качестве основных военно-административных единиц Российской Федерации в настоящее время.

4 а) Восточный б) Северо-Кавказский в) Уральский г) Сибирский д) Южный

19. Гражданин имеет право на замену военной службы по призыву альтернативной гражданской службой в случаях, если
- а) признан ограниченно годным к военной службе по состоянию здоровья
  - б) несение военной службы противоречит его убеждениям или вероисповеданию
  - в) он относится к коренному малочисленному народу Российской Федерации, ведёт традиционный образ жизни и пр.
  - г) занят постоянным уходом за отцом, матерью, женой, родным братом, родной сестрой
  - д) является опекуном несовершеннолетнего родного брата

20. Каким может быть современный бой?

- а) охватывающим
- б) общевойсковым
- в) подводным
- г) обходным
- д) противовоздушным

**Теоретические задания**

**Задание 1**






Напишите, что входит в состав общевойскового защитного комплекта (ОЗК).

1) Защитный плащ 2) Запасники 3) Рюкзаки 4) Рюкзаки для баллины  
 5) Запасники 6) Кисти 7) Держатель для плаща 8) Реска  
 для зашейки 9) Защитные перчатки


Максимальная оценка за правильно выполненное задание -10 баллов.






**Задание 2**

Впишите в таблицу смысловое значение знаков безопасности.

|        |   |                            |
|--------|---|----------------------------|
| А<br>2 |   | Осторожно опасность взрыва |
| Б<br>2 |  | Требуется обработка глаза  |
| В<br>0 |  |                            |
| Г<br>2 |  | Работа в защитной обуви    |
| Д<br>0 |  |                            |

**Задание 3.** Впишите в таблицу названия военной техники Вооружённых Сил Российской Федерации.

|         |   |       |
|---------|---|-------|
| 1.<br>2 |  | БМП-3 |
|---------|---|-------|

|         |  |                   |
|---------|--|-------------------|
| 2.<br>2 |   | Ми-28             |
| 3.<br>0 |   |                   |
| 4.<br>2 |   | (Ми-28) Су-27     |
| 5.<br>2 |   | Искантер-<br>2000 |
| 6.<br>2 |  | T-90              |

Максимальная оценка за правильно выполненное задание - 12 баллов.

#### Задание 4

Установите соответствие между транспортным положением и видом травмы и (или) состоянием пострадавшего: для каждой позиции первого столбца подберите соответствующую позицию из второго столбца.

|   |  |   |  |
|---|--|---|--|
| А | Травма головы, сознание отсутствует                  | 1 | Возвышенное положение верхней части туловища   |
| Б | Травма грудной клетки, сознание отсутствует          | 2 | Устойчивое боковое положение с приподнятой верхней частью туловища на неповреждённой стороне |
| В | Травма живота, подозрение на внутреннее кровотечение | 3 | Устойчивое боковое положение с приподнятой верхней частью туловища на повреждённой стороне   |
| Г | Затруднение дыхания (одышка)                         | 4 | Положение на спине с валиками под коленями и головой   |

Результаты внесите в таблицу.

|   |   |   |   |
|---|---|---|---|
| А | Б | В | Г |
| 3 | 1 | 2 | 4 |

Максимальная оценка за правильно выполненное задание - 8 баллов.

0

Максимум за работу 100 баллов.

0