

ТЕСТОВЫЙ ТУР
9 КЛАСС

69,58

29-05

- 05
1. Почему в Норильске имеется крупнейший медно-никелевый коминат?
А. здесь имеются крупные запасы руды Б. здесь имеются крупные запасы угля
В. здесь имеется крупная ГЭС Г. удобное транспортное положение
- 05
2. Выберите ряд, целиком составленный из городов – центров автомобилестроения:
А. Саратов-Тольятти-Ульяновск Б. Ижевск-Москва-Серпухов
В. Воронеж-Нижний Новгород-Миасс Г. Набережные Челны-Саранск-Уфа
- 05
3. Самый крупнейший в России заповедник
А. Галичья Гора Б. Остров Врангеля
В. Большой Арктический Г. Командорский
- 15+
4. Специализация Урала на производстве калийных удобрений объясняется:
А. выгодным ЭГП по отношению к внутренним потребителям и внешнему рынку
Б. наличием сырья
В. наличием достаточного количества воды
Г. наличием собственных топливных ресурсов
- 15+
5. Самый крупный долинный ледник в бассейне р. Баксан
А. Ирик Б. Б. Азау В. Ирикчат Г. Шхельды
- 15+
6. С какой страной Россия имеет самую длинную сухопутную границу
А. Китай Б. Казахстан В. Монголия Г. Грузия
- 15+
7. Буроугольный бассейн России, протянувшийся вдоль транссибирской железнодорожной магистрали
А. Тунгусский Б. Ленский В. Канско-Ачинский Г. Печорский
- 8. Месторождение Волго-Уральской нефтегазоносной провинции
А. Ямбургское Б. Красно-Ленинское В. Сургутское Г. Рамашкинское
- 05+
9. Речная система России с наиболее значительными экономическими гидроэнергетическими ресурсами
А. Волга Б. Енисей В. Обь Г. Амур
- 15+
10. Основные лесные ресурсы России расположены в (на)
А. Европейском Севере Б. Дальнем Востоке
В. Западной Сибири Г. Восточной Сибири
- 15+
11. Укажите верный вариант республик, в составе которых преобладают сельские жители
А. Удмуртия, Татарстан, Башкортостан Б. Адыгея, РСО-Алания, Чеченская Республика
В. Калмыкия, Дагестан, Ингушетия Г. Республика Саха (Якутия), Хакасия, Коми
- 15+
12. Экономический район, в котором больше всего городов миллионеров
А. Волго-Вятский Б. Уральский В. Центральный Г. Поволжский
- 15+
13. Буддизм в России исповедуют
А. евреи Б. башкиры В. чувашаи Г. калмыки
- 15+
14. Крупнейшее газовое месторождение в России
А. Уренгойское Б. Вуктыльское В. Васильковское Г. Лугинецкое

16 +

15. Атомная электростанция России, работающая на быстрых нейтронах
А. Курская **Б** Белоярская В. Тверская Г. Кольская

16 +

16. Установите соответствие между электростанцией и ее типом

- 1. Рефтинская А. АЭС
- 2. Билибинская Б. ТЭС
- 3. Братская В. ПЭС
- 4. Кислогубская Г. ГЭС

1 - Б
2 - А
3 - В
4 - Г

16 +

17. Пара культур, характерная для пригородного сельского хозяйства
А. пшеница, кукуруза **Б** овощи, картофель В. фрукты, табак Г. овощи, рис

16 +

18. Экономический район Р.Ф., специализирующиеся на выращивании сои

- А. Северо-Кавказский
- Б**. Дальневосточный
- В. Волго-Вятский
- Г. Северо-Западный

16 +

19. По производству, какого вида продукции Россия в наибольшей степени отстает от других стран с развитой лесной промышленностью:

- А. круглый лес
- Б**. бумага
- В. Пиломатериалы
- Г. древесные плиты

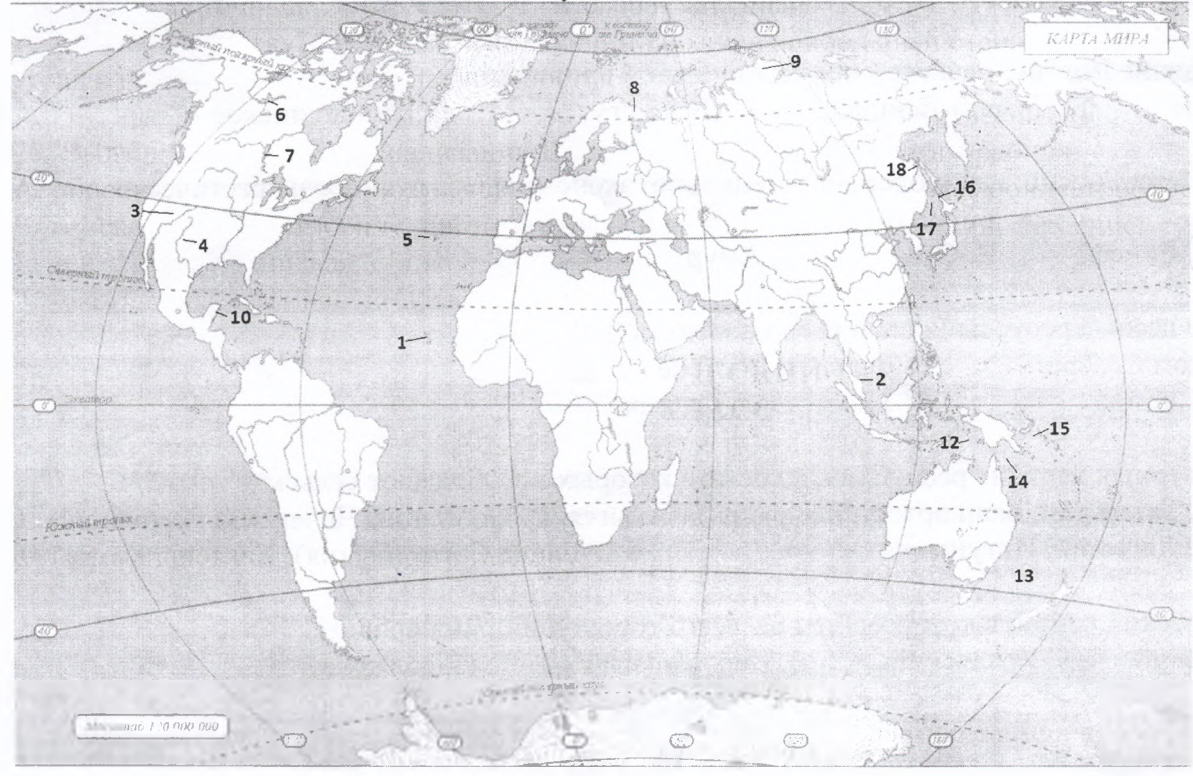
16 +

20. Выделите отрасли специализации Центрального экономического района:

- А** оборонная промышленность, текстильное, приборостроение, автомобилестроение
- Б. тяжелое машиностроение, цветная промышленность, сельхозмашиностроение;
- В. текстильная, пищевая, станкостроение, речное судостроение
- Г. текстильная, цветная, пищевая, судостроение

АНАЛИТИЧЕСКИЙ ТУР 9 КЛАСС

1. Используя контурную карту, определите географический объект по его описанию и определите его местоположение. Заполните таблицу.

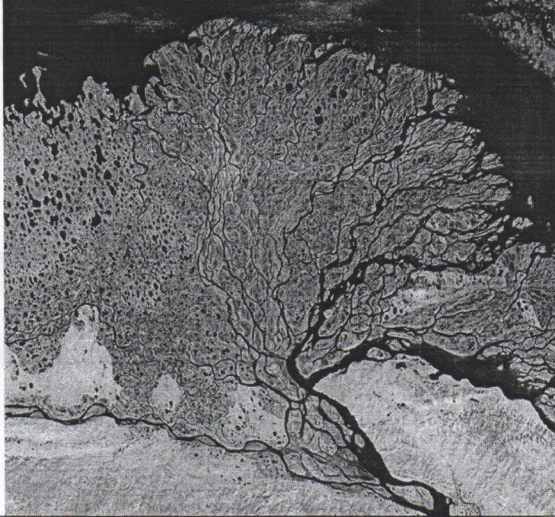






Заполните таблицу

Объект	Номер на карте	Описание
Полуостр. Малакка М. Юней 15	2 15	Южная оконечность полуострова Индокитай, омываемая на западе Андаманским морем, на востоке Южно-Китайским морем, а на юге одноименным проливом
Ваннеркеш. 15	7 15	Пятое по площади пресноводное озеро Канады, и 12 по площади пресноводное озеро мира
Кориндорн. 05	14 05	Межостровное море расположенная между одноименными островами, Новой Британие и Новой Гвинеей
Острова Зелёного моря 15	8 15	Архипелаг из десяти крупных и 8 мелких островов, расположенный в центральной части Атлантического океана
Татарск. пролив 15	18 15	Пролив между материком Евразия и о. Сахалин
Калорада 15	3 15	Крупная река, берущая начало, в Скалистых горах образуя обширную дельту
Горы Кавказа 15	9 15	Самая северная горная система в России

2. Реки Мира.

Определите реку по её краткому описанию

Река	Космоснимок	Описание
Лена 25		1. Дельта этой реки считается одной из самых больших дельт в мире. Её общая площадь составляет 45 тыс. км ² , а свое начало она берет в 150 км от места впадения. В дельте реки находится заповедник и крупнейший в России биосферный резерват. Здесь находят пристанище много водоплавающих птиц, гусей, лебедей, уток, гагар и чаек.
Нил 25		2. Дельта этой реки образовалась на месте морской бухты, которая образовалась за счет речных наносов. По форме она напоминает форму цветка лотоса, а площадь составляет 24 тыс. км ² . В дельты этой реки находится крупнейший город с численностью населения более 4 млн. человек.

<p>Сам-Кук в 2</p>		<p>3. Небольшая по протяженности река всего 640 км. в долин реки находится национальный парк Gooseneck, что в переводе означает «утиное горлышко». Такое название парк получил из-за сумасшедших извилин, которые делает протекающая тут река. Река является весьма популярным местом для рафтинга.</p>
<p>Амиссет 25</p>		<p>4. Устье этой реки состоит из пяти рукавов. В дельте реки образуются заливные луга, которые отличаются большим биоразнообразием, что способствует здесь развитию рыбного промысла.</p>
<p>Рио-Негро 25</p>		<p>5. Одна из самых маневренных рек в Южной Америке, которая оставляет после себя следы практически по всей долине. Отдельные старицы (старые рукава рек) до сих пор наполнены водой.</p>

3. Заповедники России. Определите Заповедник России по его краткому описанию



Объект (заповедник)	Что? (сохранение флоры и фауны)	Где? (Местонахождение, Субъект РФ)	Когда? (краткое описание)
<p>Баргузинский 15</p>	<p>сохранение флоры, соболей 15</p>	<p>на запад. склон хребта; впадает с-в побережье и часть шельфа озера Байкал Бурятия 16</p>	<p>1. Самый первый заповедник в России. 11 января 1917 заповедник был открыт для сохранения и восстановления</p>

	лось, медведь, заяц	Бурятия	численности одного из наиболее ценных пушных животных.
Восточный Арктический Заповедник 15	Рыбаки 124 вида, птицы, курообразные, сухопутные на бел. медведь, леминг, вудии	Таймырский Дельта-Ненецкий район Краснояр. край 15	2. Самый северный заповедник в России. Дата создания 11 мая 1993 года. Суровый климат Северного Ледовитого океана. Зона тундр и арктических пустынь.
Кавказский заповедник 15	зубр 15	Красноярский край, КЧР, Адыгея 15	3. Учрежден 12 мая 1924. Заповедник включен в список всемирного наследия ЮНЕСКО в 1999 году: 3000 видов растений, 248 видов птиц и 89 млекопитающих, встречаются рыси в хвойных лесах, 700 видов грибов, характерных для субтропиков.

4. Условные знаки плана и карты. Подпишите условные знаки. Заполните таблицу.

№	Условный знак	Обозначение
1.		обвал 0,5
2.		балетто 0,5
3.		карьер 0,5
4.		берёзовой широколиственный лес 0,5
5.		хвойный лес 0,5
6.		смешанный лес 0,5
7.		железная дорога и перу станция 0,5
8.		школа 0,5
9.		железнодорожный мост 0,5
10.		сельское поселение 0,5
11.		дорожка. 0,5
12.		кварталы 0,5

0,5
0,5
0,5

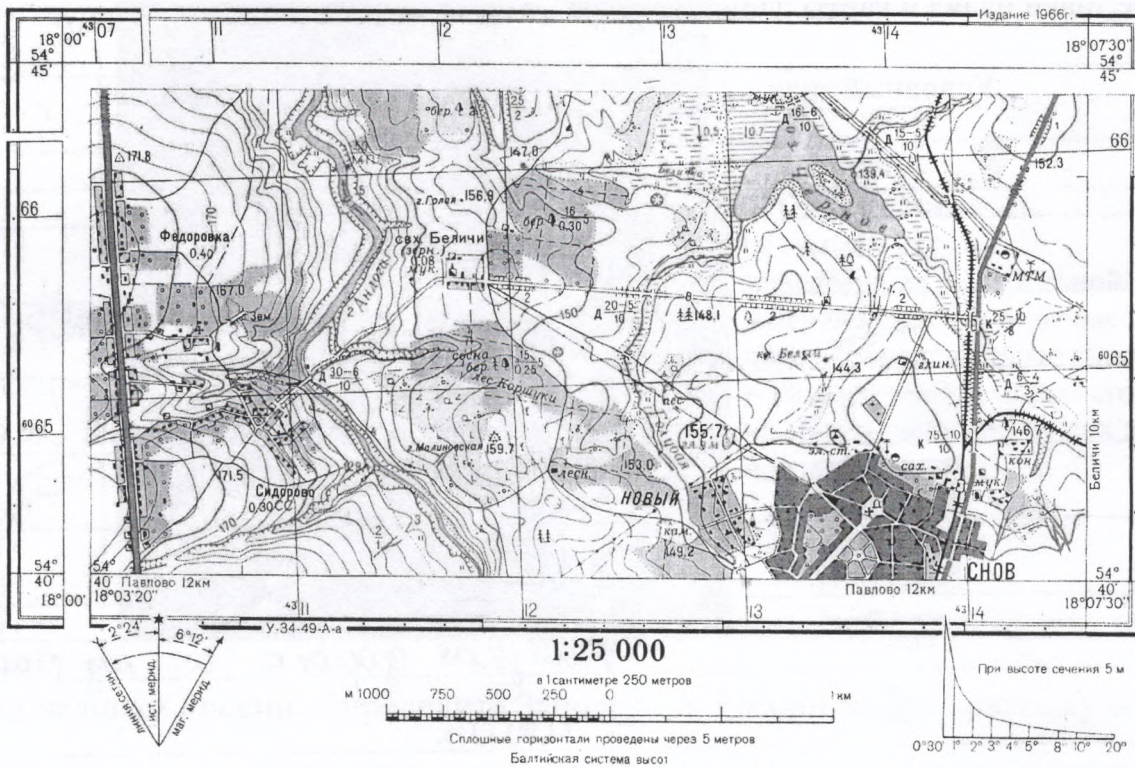
13.	+	церковь
14.		Фруктовое сады.
15.		река питающая Корповинки

5. Решение задач по топографической карте.

1. Определите, через, сколько метров проведены основные горизонтали. *25 метров 25*
2. Определите склонение магнитной стрелки и сближение меридианов.
3. Определите высоту озеро Черное над уровнем моря? *139,4 м над урв. моря.*
4. Определите азимут на Ключ Белый, если вы находитесь на г. Малиновская *(180°) 25 25*
5. Определите разницу высот высокого и самого низкого объекта на карте
6. Определите глубину болота?
7. Объясните, значение цифр расположенных рядом со знаком породы деревьев?
8. Определите в каком направлении течет Река Голубая: впадает или вытекает из озера Черного? Обоснуйте свой ответ. *на Юго-восток, вытекает так как река голубая находится*
9. Из каких материалов сделаны мосты на данной карте? *камень, 25*
10. Наблюдался ли пожар в лесу Кормушки? *нет*

ЧАСТЬ ЛИСТА ТОПОГРАФИЧЕСКОЙ КАРТЫ

У-34-37-В-В (СНОВ)



6. Определите регион России по его краткому описанию.

Отраслями специализации этого региона является машиностроение и топливная промышленность. Высока доля предприятий ВПК. Развита нефтедобывающая, нефтеперерабатывающая промышленность, нефтехимия, лесная и деревообрабатывающая промышленность. Сельское хозяйство специализируется на молочно-мясном скотоводстве, свиноводстве, птицеводстве, пчеловодстве, а также производстве

зерна (выращиваются рожь, овес, ячмень, гречиха), кормовых культур и льна-долгунца. Основные промышленные центры: Воткинск, Сарапул, Глазов. *Удмуртия. 2,5*

7. На рисунках вы видите 4 сельскохозяйственные культуры, отличающиеся по условиям произрастания, сбора и использованию. Определите эти культуры и заполните таблицу.



Фото	Культура	Субъект-лидер РФ	Использование культуры
А	<i>Пшеница 0,5</i>	<i>Ростовская обл. 0,5</i>	<i>Клибные продукты, мука 0,5</i>
Б	<i>Сахарная свекла 0,5</i>	<i>Краснод. край 0,5</i>	<i>Сахар 0,5</i>
В	<i>Кукуруза 0,5</i>	<i>Краснодарск. край 0,5</i>	<i>Кормов. пелл.; кукур-линка 0,5</i>
Г	<i>Картофель 0</i>	<i>0</i>	<i>Крахмал, употребл. в пищу 0</i>